

Единый государственный экзамен по ФИЗИКЕ

**Демонстрационный вариант
контрольных измерительных материалов
единого государственного экзамена 2018 года
по физике**

подготовлен Федеральным государственным бюджетным
научным учреждением

«ФЕДЕРАЛЬНЫЙ ИНСТИТУТ ПЕДАГОГИЧЕСКИХ ИЗМЕРЕНИЙ»

Единый государственный экзамен по ФИЗИКЕ

Пояснения к демонстрационному варианту контрольных измерительных материалов 2018 года по ФИЗИКЕ

При ознакомлении с демонстрационным вариантом контрольных измерительных материалов 2018 г. следует иметь в виду, что задания, включённые в демонстрационный вариант, не отражают всех вопросов содержания, которые будут проверяться с помощью вариантов КИМ в 2018 г. Полный перечень вопросов, которые могут контролироваться на едином государственном экзамене 2018 г., приведён в кодификаторе элементов содержания и требований к уровню подготовки выпускников образовательных организаций для проведения единого государственного экзамена 2018 г. по физике.

Назначение демонстрационного варианта заключается в том, чтобы дать возможность любому участнику ЕГЭ и широкой общественности составить представление о структуре будущих КИМ, количестве и форме заданий, об уровне их сложности. Приведённые критерии оценки выполнения заданий с развёрнутым ответом, включённые в этот вариант, дают представление о требованиях к полноте и правильности записи развёрнутого ответа.

Эти сведения позволят выпускникам выработать стратегию подготовки и сдачи ЕГЭ.

Ниже приведены справочные данные, которые могут понадобиться Вам при выполнении работы.

Десятичные приставки

Наименование	Обозначение	Множитель	Наименование	Обозначение	Множитель
гига	Г	10^9	сантиметры	см	10^{-2}
мега	М	10^6	милли	мм	10^{-3}
кило	к	10^3	микро	мкм	10^{-6}
гекто	г	10^2	нано	нм	10^{-9}
деци	д	10^{-1}	пико	пм	10^{-12}

Константы

число π	$\pi = 3,14$
ускорение свободного падения на Земле	$g = 10 \text{ м/с}^2$
гравитационная постоянная	$G = 6,7 \cdot 10^{-11} \text{ Н} \cdot \text{м}^2 / \text{кг}^2$
универсальная газовая постоянная	$R = 8,31 \text{ Дж}/(\text{моль} \cdot \text{К})$
постоянная Больцмана	$k = 1,38 \cdot 10^{-23} \text{ Дж/К}$
постоянная Авогадро	$N_A = 6 \cdot 10^{23} \text{ моль}^{-1}$
скорость света в вакууме	$c = 3 \cdot 10^8 \text{ м/с}$
коэффициент пропорциональности в законе Кулона	$k = \frac{1}{4\pi\epsilon_0} = 9 \cdot 10^9 \text{ Н} \cdot \text{м}^2 / \text{Кл}^2$
модуль заряда электрона (элементарный электрический заряд)	$e = 1,6 \cdot 10^{-19} \text{ Кл}$
постоянная Планка	$h = 6,6 \cdot 10^{-34} \text{ Дж} \cdot \text{с}$

Соотношение между различными единицами

температура	$0 \text{ К} = -273 \text{ }^\circ\text{С}$
атомная единица массы	$1 \text{ а.е.м.} = 1,66 \cdot 10^{-27} \text{ кг}$
1 атомная единица массы эквивалентна	$931,5 \text{ МэВ}$
1 электронвольт	$1 \text{ эВ} = 1,6 \cdot 10^{-19} \text{ Дж}$

Масса частиц

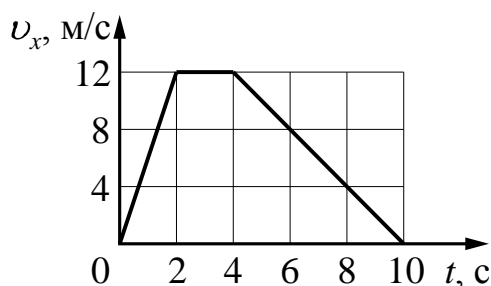
электрона	$9,1 \cdot 10^{-31} \text{ кг} \approx 5,5 \cdot 10^{-4} \text{ а.е.м.}$
протона	$1,673 \cdot 10^{-27} \text{ кг} \approx 1,007 \text{ а.е.м.}$
нейтрона	$1,675 \cdot 10^{-27} \text{ кг} \approx 1,008 \text{ а.е.м.}$

Плотность		подсолнечного масла	900 кг/м ³
воды	1000 кг/м ³	алюминия	2700 кг/м ³
древесины (сосна)	400 кг/м ³	железа	7800 кг/м ³
керосина	800 кг/м ³	ртути	13 600 кг/м ³
Удельная теплоёмкость			
воды	4,2·10 ³ Дж/(кг·К)	алюминия	900 Дж/(кг·К)
льда	2,1·10 ³ Дж/(кг·К)	меди	380 Дж/(кг·К)
железа	460 Дж/(кг·К)	чугуна	500 Дж/(кг·К)
свинца	130 Дж/(кг·К)		
Удельная теплота			
парообразования воды	2,3·10 ⁶ Дж/кг		
плавления свинца	2,5·10 ⁴ Дж/кг		
плавления льда	3,3·10 ⁵ Дж/кг		
Нормальные условия: давление – 10 ⁵ Па, температура – 0 °С			
Молярная масса			
азота	28·10 ⁻³ кг/моль	гелия	4·10 ⁻³ кг/моль
аргона	40·10 ⁻³ кг/моль	кислорода	32·10 ⁻³ кг/моль
водорода	2·10 ⁻³ кг/моль	лития	6·10 ⁻³ кг/моль
воздуха	29·10 ⁻³ кг/моль	неона	20·10 ⁻³ кг/моль
воды	18·10 ⁻³ кг/моль	углекислого газа	44·10 ⁻³ кг/моль

Часть 1

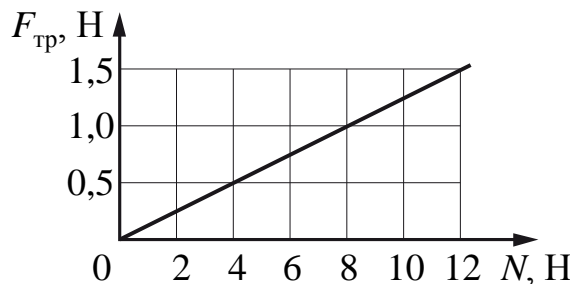
Ответами к заданиям 1–24 являются слово, число или последовательность цифр или чисел. Запишите ответ в поле ответа в тексте работы, а затем перенесите в БЛАНК ОТВЕТОВ № 1 справа от номера соответствующего задания, начиная с первой клеточки. Каждый символ пишите в отдельной клеточке в соответствии с приведёнными в бланке образцами. Единицы измерения физических величин писать не нужно.

- 1** На рисунке показан график зависимости от времени для проекции v_x скорости тела. Какова проекция a_x ускорения этого тела в интервале времени от 4 до 8 с?



Ответ: _____ м/с².

- 2** На графике приведена зависимость модуля силы трения скольжения от модуля силы нормального давления. Каков коэффициент трения?



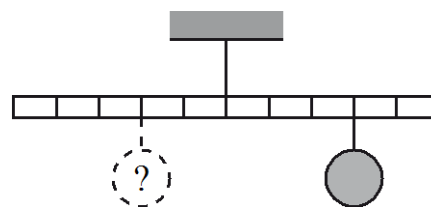
Ответ: _____.

- 3** У основания гладкой наклонной плоскости шайба массой 10 г обладает кинетической энергией 0,04 Дж. Определите максимальную высоту, на которую шайба может подняться по плоскости относительно основания. Сопротивлением воздуха пренебречь.

Ответ: _____ м.

4

Тело массой 0,2 кг подвешено к правому плечу невесомого рычага (см. рисунок). Груз какой массы надо подвесить ко второму делению левого плеча рычага для достижения равновесия?



Ответ: _____ кг.

5

В таблице представлены данные о положении шарика, прикрепленного к пружине и колеблющегося вдоль горизонтальной оси Ox , в различные моменты времени.

t, c	0,0	0,2	0,4	0,6	0,8	1,0	1,2	1,4	1,6	1,8	2,0	2,2	2,4	2,6	2,8	3,0	3,2
$x, мм$	0	5	9	12	14	15	14	12	9	5	0	-5	-9	-12	-14	-15	-14

Из приведённого ниже списка выберите **два** правильных утверждения и укажите их номера.

- 1) Потенциальная энергия пружины в момент времени 1,0 с максимальна.
- 2) Период колебаний шарика равен 4,0 с.
- 3) Кинетическая энергия шарика в момент времени 2,0 с минимальна.
- 4) Амплитуда колебаний шарика равна 30 мм.
- 5) Полная механическая энергия маятника, состоящего из шарика и пружины, в момент времени 3,0 с минимальна.

Ответ:

6

В результате перехода спутника Земли с одной круговой орбиты на другую скорость его движения уменьшается. Как изменяются при этом центростремительное ускорение спутника и период его обращения вокруг Земли?

Для каждой величины определите соответствующий характер изменения:

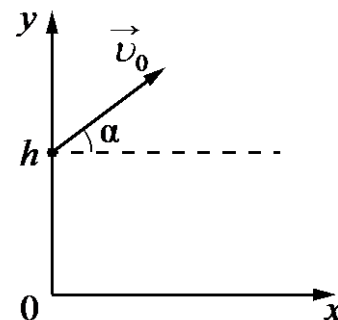
- 1) увеличивается
- 2) уменьшается
- 3) не изменяется

Запишите в таблицу выбранные цифры для каждой физической величины. Цифры в ответе могут повторяться.

Центростремительное ускорение спутника	Период обращения спутника вокруг Земли

7

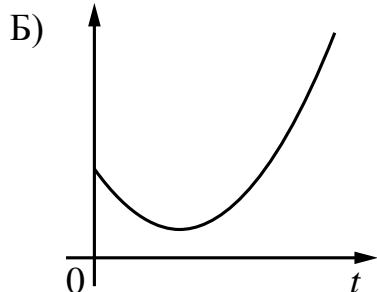
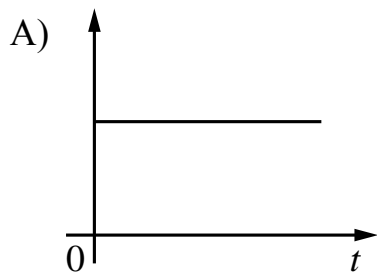
В момент $t=0$ мячик бросают с начальной скоростью \vec{v}_0 под углом α к горизонту с балкона высотой h (см. рисунок). Графики А и Б представляют собой зависимости физических величин, характеризующих движение мячика в процессе полёта, от времени t .



Установите соответствие между графиками и физическими величинами, зависимости которых от времени эти графики могут представлять. (Спротивлением воздуха пренебречь. Потенциальная энергия мячика отсчитывается от уровня $y=0$.)

К каждой позиции первого столбца подберите соответствующую позицию из второго столбца и запишите в таблицу выбранные цифры под соответствующими буквами.

ГРАФИКИ



ФИЗИЧЕСКИЕ ВЕЛИЧИНЫ

- 1) проекция импульса мячика на ось y
- 2) кинетическая энергия мячика
- 3) модуль ускорения мячика a
- 4) потенциальная энергия мячика

Ответ:

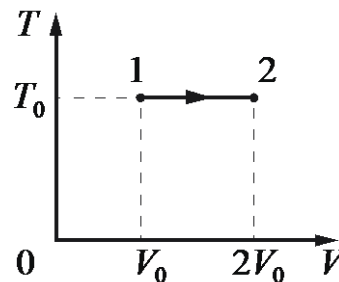
А	Б

8

При увеличении абсолютной температуры средняя кинетическая энергия хаотического теплового движения молекул разреженного одноатомного газа увеличилась в 2 раза. Начальная температура газа 250 К. Какова конечная температура газа?

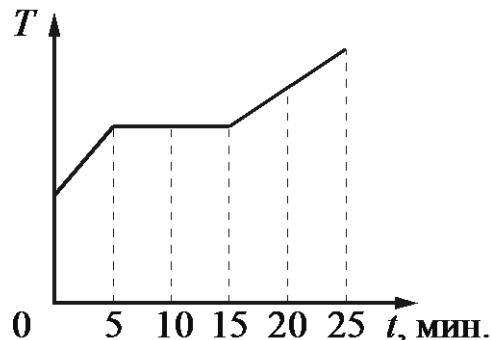
Ответ: _____ К.

9 На TV -диаграмме показан процесс изменения состояния идеального одноатомного газа. Газ получил количество теплоты, равное 50 кДж. Какую работу совершил газ в этом процессе, если его масса не меняется?



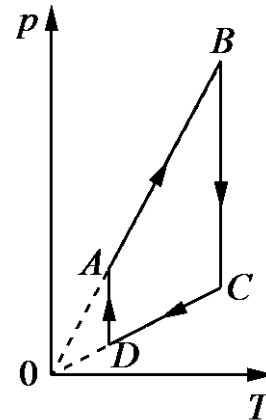
Ответ: _____ кДж.

10 Для плавления куска льда при температуре его плавления требуется количество теплоты, равное 3 кДж. Этот кусок льда внесли в тёплое помещение. Зависимость температуры льда от времени представлена на рисунке. Определите среднюю тепловую мощность, подводимую к куску льда в процессе плавления.



Ответ: _____ Вт.

11 На рисунке показан график циклического процесса, проведённого с одноатомным идеальным газом, в координатах p – T , где p – давление газа, T – абсолютная температура газа. Количество вещества газа постоянно.



Из приведённого ниже списка выберите **два** правильных утверждения, характеризующих процессы на графике.

- 1) Газ за цикл совершает положительную работу.
- 2) В процессе AB газ получает положительное количество теплоты.
- 3) В процессе BC внутренняя энергия газа уменьшается.
- 4) В процессе CD над газом совершают работу внешние силы.
- 5) В процессе DA газ изотермически расширяется.

Ответ:

--	--

12 Тепловая машина работает по циклу Карно. Температуру холодильника тепловой машины повысили, оставив температуру нагревателя прежней. Количество теплоты, полученное газом от нагревателя за цикл, не изменилось. Как изменились при этом КПД тепловой машины и работа газа за цикл?

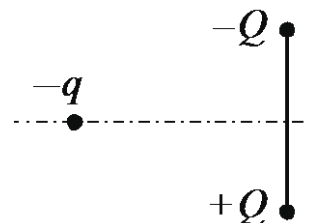
Для каждой величины определите соответствующий характер изменения:

- 1) увеличилась
- 2) уменьшилась
- 3) не изменилась

Запишите в таблицу выбранные цифры для каждой физической величины. Цифры в ответе могут повторяться.

КПД тепловой машины	Работа газа за цикл

13 Отрицательный заряд $-q$ находится в поле двух неподвижных зарядов: положительного $+Q$ и отрицательного $-Q$ (см. рисунок). Куда направлено относительно рисунка (*вправо, влево, вверх, вниз, к наблюдателю, от наблюдателя*) ускорение заряда $-q$ в этот момент времени, если на него действуют только заряды $+Q$ и $-Q$? *Ответ запишите словом (словами).*



Ответ: _____.

14 Плавкий предохранитель счётчика электроэнергии в квартирной сети напряжением 220 В снабжён надписью: «6 А». Какова максимальная суммарная мощность электрических приборов, которые можно одновременно включить в сеть, чтобы предохранитель не расплавился?

Ответ: _____ Вт.

15 Проволочная рамка площадью $2 \cdot 10^{-3} \text{ м}^2$ вращается в однородном магнитном поле вокруг оси, перпендикулярной вектору магнитной индукции. Магнитный поток, пронизывающий площадь рамки, изменяется по закону $\Phi = 4 \cdot 10^{-6} \cos 10\pi t$, где все величины выражены в СИ. Чему равен модуль магнитной индукции?

Ответ: _____ мТл.

16

На железный сердечник надеты две катушки, как показано на рисунке. По правой катушке пропускают ток, который меняется согласно приведённому графику. На основании этого графика выберите **два** верных утверждения о процессах, происходящих в катушках и сердечнике.

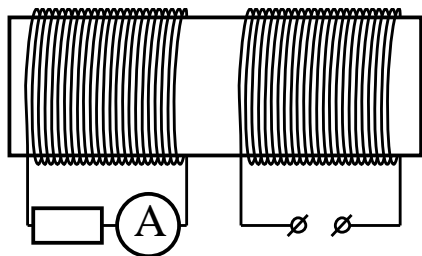


Рис. 1

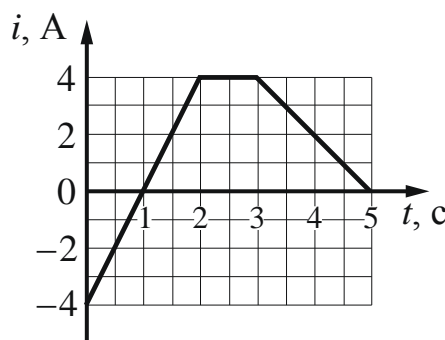


Рис. 2

- 1) В промежутках 0–1 и 1–2 с направления тока в правой катушке различны.
- 2) В промежутке времени 2–3 с сила тока в левой катушке отлична от нуля.
- 3) Модуль силы тока в левой катушке в промежутке 1–2 с больше, чем в промежутке 3–5 с.
- 4) В промежутке 0–2 с модуль магнитной индукции в сердечнике минимален.
- 5) В промежутке 1–2 с сила тока в левой катушке равномерно увеличивается.

Ответ:

--	--

17

Небольшой предмет расположен на главной оптической оси тонкой собирающей линзы между фокусным и двойным фокусным расстоянием от неё. Предмет начинают приближать к фокусу линзы. Как меняются при этом размер изображения и оптическая сила линзы?

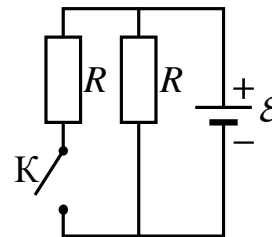
Для каждой величины определите соответствующий характер её изменения:

- 1) увеличивается
- 2) уменьшается
- 3) не изменяется

Запишите в таблицу выбранные цифры для каждой физической величины. Цифры в ответе могут повторяться.

Размер изображения	Оптическая сила линзы

18 На рисунке показана цепь постоянного тока. Внутренним сопротивлением источника тока можно пренебречь. Установите соответствие между физическими величинами и формулами, по которым их можно рассчитать (\mathcal{E} – ЭДС источника тока; R – сопротивление резистора).



К каждой позиции первого столбца подберите соответствующую позицию из второго столбца и запишите в таблицу выбранные цифры под соответствующими буквами.

ФИЗИЧЕСКИЕ ВЕЛИЧИНЫ

ФОРМУЛЫ

А) сила тока через источник при замкнутом ключе К

1) $\frac{\mathcal{E}}{4R}$

Б) сила тока через источник при разомкнутом ключе К

2) $\frac{2\mathcal{E}}{R}$

3) $\frac{\mathcal{E}}{R}$

4) $\frac{\mathcal{E}}{2R}$

Ответ:

А	Б

19 В результате цепной реакции деления урана ${}^1_0n + {}^{235}_{92}\text{U} \rightarrow {}^A_Z\text{X} + {}^{139}_{56}\text{Ba} + 3{}^1_0n$ образуется ядро химического элемента ${}^A_Z\text{X}$. Каковы заряд образовавшегося ядра Z (в единицах элементарного заряда) и его массовое число A ?

Заряд ядра Z	Массовое число ядра A

В бланк ответов № 1 перенесите только числа, не разделяя их пробелом или другим знаком.

20 Период T полураспада изотопа калия ${}^{38}_{19}\text{K}$ равен 7,6 мин. Изначально в образце содержалось 2,4 мг этого изотопа. Сколько этого изотопа останется в образце через 22,8 мин.?

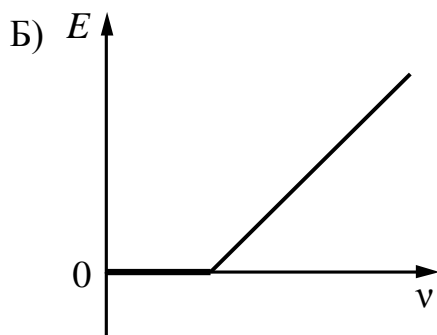
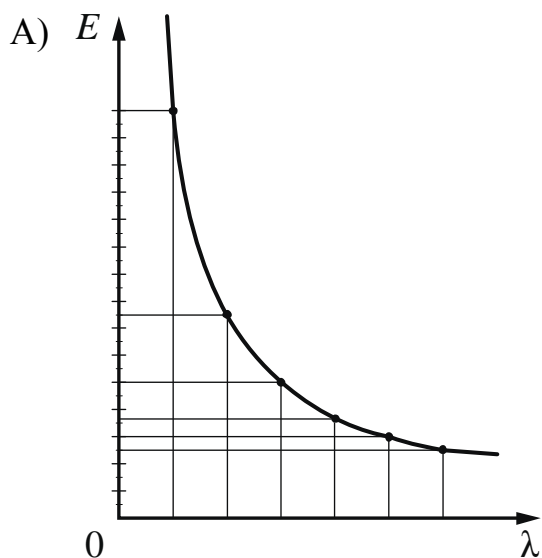
Ответ: _____ мг.

21

На металлическую пластинку падает пучок монохроматического света. При этом наблюдается явление фотоэффекта. На графиках в первом столбце представлены зависимости энергии от длины волны λ и частоты света ν . Установите соответствие между графиком и той энергией, для которой он может определять представленную зависимость.

К каждой позиции первого столбца подберите соответствующую позицию из второго столбца и запишите в таблицу выбранные цифры под соответствующими буквами.

ГРАФИК




ВИД ЗАВИСИМОСТИ

- 1) зависимость максимальной кинетической энергии фотоэлектронов от частоты падающего света
- 2) зависимость энергии падающих фотонов от частоты падающего света
- 3) зависимость энергии падающих фотонов от длины волны света
- 4) зависимость потенциальной энергии взаимодействия фотоэлектронов с ионами металла от длины волны падающего света

Ответ:

А	Б

- 22 Определите показания амперметра (см. рисунок), если погрешность прямого измерения силы тока равна цене деления амперметра.



Ответ: (_____ \pm _____) А.

В бланк ответов № 1 перенесите только числа, не разделяя их пробелом или другим знаком.

- 23 Необходимо собрать экспериментальную установку, с помощью которой можно определить коэффициент трения скольжения стали по дереву. Для этого школьник взял стальной брусок с крючком. Какие два предмета из приведённого ниже перечня оборудования необходимо дополнительно использовать для проведения этого эксперимента?

- 1) деревянная рейка
- 2) динамометр
- 3) мензурка
- 4) пластмассовая рейка
- 5) линейка

В ответ запишите номера выбранных предметов.

Ответ:

--	--

24

Рассмотрите таблицу, содержащую сведения о ярких звездах.

Наименование звезды	Температура, К	Масса (в массах Солнца)	Радиус (в радиусах Солнца)	Расстояние до звезды (св. год)
Альдебаран	3500	5	45	68
Альтаир	8000	1,7	1,7	360
Бетельгейзе	3100	20	900	650
Вега	10600	3	3	27
Капелла	5200	3	2,5	45
Кастор	10400	3	2,5	45
Процион	6900	1,5	2	11
Спика	16800	15	7	160

Выберите **два** утверждения, которые соответствуют характеристикам звезд.

- 1) Температура поверхности и радиус Бетельгейзе говорят о том, что эта звезда относится к красным сверхгигантам.
- 2) Температура на поверхности Проциона в 2 раза ниже, чем на поверхности Солнца.
- 3) Звезды Кастор и Капелла находятся на одинаковом расстоянии от Земли и, следовательно, относятся к одному созвездию.
- 4) Звезда Вега относится к белым звездам спектрального класса А.
- 5) Так как массы звезд Вега и Капелла одинаковы, то они относятся к одному и тому же спектральному классу.

Ответ:

--	--

Часть 2

Ответом к заданиям 25–27 является число. Запишите это число в поле ответа в тексте работы, а затем перенесите в БЛАНК ОТВЕТОВ № 1 справа от номера соответствующего задания, начиная с первой клеточки. Каждый символ пишете в отдельной клеточке в соответствии с приведёнными в бланке образцами. Единицы измерения физических величин писать не нужно.

- 25** Снаряд массой 2 кг, летящий со скоростью 200 м/с, разрывается на два осколка. Первый осколок массой 1 кг летит под углом 90° к первоначальному направлению со скоростью 300 м/с. Найдите скорость второго осколка.

Ответ: _____ м/с.

- 26** При сжатии идеального одноатомного газа при постоянном давлении внешние силы совершили работу 2000 Дж. Какое количество теплоты было передано при этом газом окружающим телам?

Ответ: _____ Дж.

- 27** Плоская монохроматическая световая волна с частотой $8,0 \cdot 10^{14}$ Гц падает по нормали на дифракционную решётку. Параллельно решётке позади неё размещена собирающая линза с фокусным расстоянием 21 см. Дифракционная картина наблюдается на экране в задней фокальной плоскости линзы. Расстояние между её главными максимумами 1-го и 2-го порядков равно 18 мм. Найдите период решётки. Ответ выразите в микрометрах (мкм), округлив до десятых. Считать для малых углов ($\varphi \ll 1$ в радианах) $\operatorname{tg} \varphi \approx \sin \varphi \approx \varphi$.

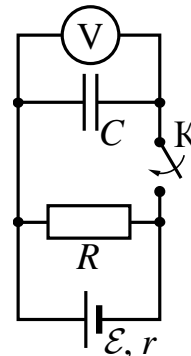
Ответ: _____ мкм.

Не забудьте перенести все ответы в бланк ответов № 1 в соответствии с инструкцией по выполнению работы.

Для записи ответов на задания 28–32 используйте БЛАНК ОТВЕТОВ № 2. Запишите сначала номер задания (28, 29 и т. д.), а затем решение соответствующей задачи. Ответы записывайте чётко и разборчиво.

28

Опираясь на законы физики, найдите показание идеального вольтметра в схеме, представленной на рисунке, до замыкания ключа К и опишите изменения его показаний после замыкания ключа К. Первоначально конденсатор не заряжен.



Полное правильное решение каждой из задач 29–32 должно содержать законы и формулы, применение которых необходимо и достаточно для решения задачи, а также математические преобразования, расчёты с численным ответом и при необходимости рисунок, поясняющий решение.

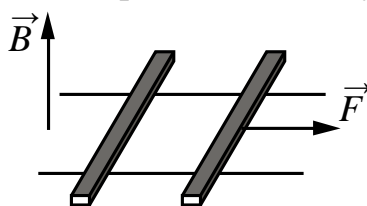
29

Деревянный шар привязан нитью ко дну цилиндрического сосуда с площадью дна $S = 100 \text{ см}^2$. В сосуд наливают воду так, что шар полностью погружается в жидкость, при этом нить натягивается и действует на шар с силой T . Если нить перерезать, то шар всплывёт, а уровень воды изменится на $h = 5 \text{ см}$. Найдите силу натяжения нити T .

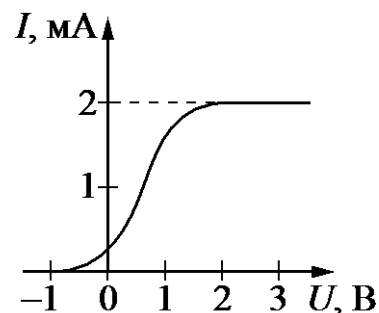
30

В комнате размерами $4 \times 5 \times 3 \text{ м}$, в которой воздух имеет температуру $10 \text{ }^\circ\text{C}$ и относительную влажность 30% , включили увлажнитель воздуха производительностью $0,2 \text{ л/ч}$. Чему станет равна относительная влажность воздуха в комнате через $1,5 \text{ ч}$? Давление насыщенного водяного пара при температуре $10 \text{ }^\circ\text{C}$ равно $1,23 \text{ кПа}$. Комнату считать герметичным сосудом.

- 31** По горизонтально расположенным шероховатым рельсам с пренебрежимо малым сопротивлением могут скользить два одинаковых стержня массой $m=100$ г и сопротивлением $R=0,1$ Ом каждый. Расстояние между рельсами $l=10$ см, а коэффициент трения между стержнями и рельсами $\mu=0,1$. Рельсы со стержнями находятся в однородном вертикальном магнитном поле с индукцией $B=1$ Тл (см. рисунок). Под действием горизонтальной силы, действующей на первый стержень вдоль рельс, оба стержня движутся поступательно равномерно с разными скоростями. Какова скорость движения первого стержня относительно второго? Самоиндукцией контура пренебречь.



- 32** В опыте по изучению фотоэффекта свет частотой $\nu=6,1 \cdot 10^{14}$ Гц падает на поверхность катода, в результате чего в цепи возникает ток. График зависимости силы тока I от напряжения U между анодом и катодом приведён на рисунке. Какова мощность падающего света P , если в среднем один из 20 фотонов, падающих на катод, выбивает электрон?



Система оценивания экзаменационной работы по физике**Задания 1–28**

За правильный ответ на каждое из заданий 1–4, 8–10, 13–15, 19, 20, 22, 23, 25–27 ставится по 1 баллу. Эти задания считаются выполненными верно, если правильно указаны требуемое число, два числа или слово.

Каждое из заданий 5–7, 11, 12, 16–18 и 21, 24 оценивается в 2 балла, если верно указаны оба элемента ответа; в 1 балл, если допущена одна ошибка; в 0 баллов, если оба элемента указаны неверно. Если указано более двух элементов (в том числе, возможно, и правильные) или ответ отсутствует, – 0 баллов.

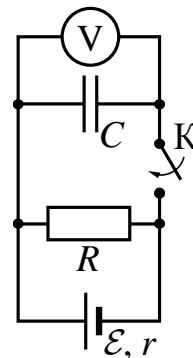
№ задания	Ответ	№ задания	Ответ
1	–2	15	2
2	0,125	16	13
3	0,4	17	13
4	0,3	18	23
5	12	19	3694
6	21	20	0,3
7	32	21	31
8	500	22	0,200,02
9	50	23	12
10	5	24	14
11	12	25	500
12	22	26	5000
13	вниз	27	4,4
14	1320		

КРИТЕРИИ ОЦЕНИВАНИЯ ВЫПОЛНЕНИЯ ЗАДАНИЙ**С РАЗВЁРНУТЫМ ОТВЕТОМ**

Решения заданий 27–31 части 2 (с развёрнутым ответом) оцениваются экспертной комиссией. На основе критериев, представленных в приведённых ниже таблицах, за выполнение каждого задания в зависимости от полноты и правильности данного учащимся ответа выставляется от 0 до 3 баллов.

28

Опираясь на законы физики, найдите показание идеального вольтметра в схеме, представленной на рисунке, до замыкания ключа К и опишите изменения его показаний после замыкания ключа К. Первоначально конденсатор не заряжен.

**Возможное решение**

1. Начальное показание вольтметра равно нулю, после замыкания ключа показания вольтметра будут увеличиваться, пока не достигнут максимального значения, которое не будет меняться со временем.

2. Вольтметр соединён параллельно с конденсатором, поэтому его показания равны напряжению на конденсаторе. Вначале конденсатор не заряжен ($q_1 = 0$), поэтому напряжение на нём $U_1 = \frac{q_1}{C} = 0$, и показания вольтметра равны нулю.

3. После замыкания конденсатор будет заряжаться, и, так как $U = \frac{q}{C}$, показания вольтметра будут увеличиваться. Когда конденсатор полностью зарядится, ток через него не течёт, а течёт только через резистор. Сила тока в цепи станет постоянной и согласно закону Ома для полной цепи $I = \frac{\mathcal{E}}{R + r}$.

Напряжение на конденсаторе и резисторе $U = IR$ и не будет меняться со временем. Поэтому показания вольтметра тоже перестанут изменяться

Критерии оценивания выполнения задания	Баллы
Приведено полное правильное решение, включающее правильный ответ (в данном случае: n , I) и исчерпывающие верные рассуждения с прямым указанием наблюдаемых явлений и законов (в данном случае: закон Ома для полной цепи и для участка цепи, формула связи напряжения на конденсаторе с его зарядом; указано, что после зарядки конденсатора показания вольтметра перестанут изменяться)	3

<p>Дан правильный ответ, и приведено объяснение, но в решении имеются один или несколько из следующих недостатков.</p> <p>В объяснении не указано или не используется одно из физических явлений, свойств, определений или один из законов (формул), необходимых для полного верного объяснения. (Утверждение, лежащее в основе объяснения, не подкреплено соответствующим законом, свойством, явлением, определением и т.п.)</p> <p style="text-align: center;">И (ИЛИ)</p> <p>Указаны все необходимые для объяснения явления и законы, закономерности, но в них содержится один логический недочёт.</p> <p style="text-align: center;">И (ИЛИ)</p> <p>В решении имеются лишние записи, не входящие в решение (возможно, неверные), которые не отделены от решения (не зачёркнуты; не заключены в скобки, рамку и т.п.).</p> <p style="text-align: center;">И (ИЛИ)</p> <p>В решении имеется неточность в указании на одно из физических явлений, свойств, определений, законов (формул), необходимых для полного верного объяснения</p>	2
<p>Представлено решение, соответствующее <u>одному</u> из следующих случаев.</p> <p>Дан правильный ответ на вопрос задания, и приведено объяснение, но в нём не указаны два явления или физических закона, необходимых для полного верного объяснения.</p> <p style="text-align: center;">ИЛИ</p> <p>Указаны все необходимые для объяснения явления и законы, закономерности, но имеющиеся рассуждения, направленные на получение ответа на вопрос задания, не доведены до конца.</p> <p style="text-align: center;">ИЛИ</p> <p>Указаны все необходимые для объяснения явления и законы, закономерности, но имеющиеся рассуждения, <u>приводящие к ответу</u>, содержат ошибки.</p> <p style="text-align: center;">ИЛИ</p> <p>Указаны не все необходимые для объяснения явления и законы, закономерности, но имеются верные рассуждения, направленные на решение задачи</p>	1
<p>Все случаи решения, которые не соответствуют вышеуказанным критериям выставления оценок в 1, 2, 3 балла</p>	0
<p><i>Максимальный балл</i></p>	3

29

Деревянный шар привязан нитью ко дну цилиндрического сосуда с площадью дна $S = 100 \text{ см}^2$. В сосуд наливают воду так, что шар полностью погружается в жидкость, при этом нить натягивается и действует на шар с силой T . Если нить перерезать, то шар всплывёт, а уровень воды изменится на $h = 5 \text{ см}$. Найдите силу натяжения нити T .

Возможное решение	
<p>1. Условие равновесия шара в первом случае:</p> $F_{A1} = T + mg, \quad (1)$ <p>где $F_{A1} = \rho V_1 g$ – сила Архимеда, действующая на шар в первом случае, V_1 – объём части шара, погружённой в воду в первом случае (в данной задаче это объём всего шара), m – масса шара и ρ – плотность воды.</p> <p>2. Условие равновесия шара во втором случае:</p> $F_{A2} = mg, \quad (2)$ <p>где $F_{A2} = \rho V_2 g$ – сила Архимеда, действующая на шар во втором случае, V_2 – объём части шара, погруженной в воду во втором случае.</p> <p>3. Вычтем из уравнения (1) уравнение (2) и, учитывая, что $V_1 - V_2 = Sh$, получим:</p> $T = \rho g (V_1 - V_2) = \rho g Sh = 10^3 \cdot 10 \cdot 100 \cdot 10^{-4} \cdot 0,05 = 5 \text{ Н.}$ <p>Ответ: $T = 5 \text{ Н}$</p>	
Критерии оценивания выполнения задания	Баллы
<p>Приведено полное решение, включающее следующие элементы:</p> <p>I) записаны положения теории и физические законы, закономерности, <u>применение которых необходимо</u> для решения задачи выбранным способом (в данном случае: <i>условия равновесия шара для двух случаев, закон Архимеда</i>);</p> <p>II) описаны все вновь вводимые в решении буквенные обозначения физических величин (<i>за исключением обозначений констант, указанных в варианте КИМ, обозначений, используемых в условии задачи, и стандартных обозначений величин, используемых при написании физических законов</i>);</p> <p>III) проведены необходимые математические преобразования и расчёты, приводящие к правильному числовому ответу (допускается решение «по частям» с промежуточными вычислениями);</p> <p>IV) представлен правильный ответ с указанием единиц измерения искомой величины</p>	3

<p>Правильно записаны все необходимые положения теории, физические законы, закономерности, и проведены необходимые преобразования. Но имеются один или несколько из следующих недостатков.</p> <p>Записи, соответствующие пункту II, представлены не в полном объёме или отсутствуют.</p> <p style="text-align: center;">И (ИЛИ)</p> <p>В решении имеются лишние записи, не входящие в решение (возможно, неверные), которые не отделены от решения (не зачёркнуты; не заключены в скобки, рамку и т.п.).</p> <p style="text-align: center;">И (ИЛИ)</p> <p>В необходимых математических преобразованиях или вычислениях допущены ошибки, и (или) в математических преобразованиях/вычислениях пропущены логически важные шаги.</p> <p style="text-align: center;">И (ИЛИ)</p> <p>Отсутствует пункт IV, или в нём допущена ошибка</p>	2
<p>Представлены записи, соответствующие одному из следующих случаев.</p> <p>Представлены только положения и формулы, выражающие физические законы, применение которых необходимо и достаточно для решения данной задачи, без каких-либо преобразований с их использованием, направленных на решение задачи.</p> <p style="text-align: center;">ИЛИ</p> <p>В решении отсутствует ОДНА из исходных формул, необходимая для решения данной задачи (или утверждение, лежащее в основе решения), но присутствуют логически верные преобразования с имеющимися формулами, направленные на решение задачи.</p> <p style="text-align: center;">ИЛИ</p> <p>В ОДНОЙ из исходных формул, необходимых для решения данной задачи (или в утверждении, лежащем в основе решения), допущена ошибка, но присутствуют логически верные преобразования с имеющимися формулами, направленные на решение задачи</p>	1
<p>Все случаи решения, которые не соответствуют вышеуказанным критериям выставления оценок в 1, 2, 3 балла</p>	0
<p><i>Максимальный балл</i></p>	3

30

В комнате размерами $4 \times 5 \times 3$ м, в которой воздух имеет температуру 10°C и относительную влажность 30% , включили увлажнитель воздуха производительностью $0,2$ л/ч. Чему станет равна относительная влажность воздуха в комнате через $1,5$ ч? Давление насыщенного водяного пара при температуре 10°C равно $1,23$ кПа. Комнату считать герметичным сосудом.

Возможное решение

Относительная влажность определяется парциальным давлением водяного пара p и давлением $p_{\text{нас}}$ насыщенного пара при той же температуре: $\varphi = \frac{p}{p_{\text{нас}}}$.

За время τ работы увлажнителя с производительностью I испаряется масса воды $m = \rho I \tau$ плотностью ρ .

В результате исходная влажность в комнате, $\varphi_1 = \frac{p_1}{p_{\text{нас}}}$, возрастает до значения

$$\varphi_2 = \frac{p_2}{p_{\text{нас}}} = \frac{p_1 + \Delta p}{p_{\text{нас}}} = \varphi_1 + \frac{\Delta p}{p_{\text{нас}}}.$$

Водяной пар в комнате объёмом V является разреженным газом, который подчиняется уравнению Менделеева – Клапейрона:

$$pV = \frac{M}{\mu} RT,$$

где M – масса водяного пара, p – парциальное давление, μ – его молярная масса. Увеличение массы пара в комнате на m (от m_1 до $m_2 = m_1 + m$) приводит к увеличению парциального давления на величину, пропорциональную испарившейся массе: $\Delta p = \frac{m RT}{\mu V} = \frac{\rho I \tau RT}{\mu V}$.

$$\text{Отсюда: } \varphi_2 = \varphi_1 + \frac{\Delta p}{p_{\text{нас}}} = \varphi_1 + \frac{\rho I \tau}{\mu} \cdot \frac{RT}{p_{\text{нас}} V}.$$

Подставляя значения физических величин, получим:

$$\varphi_2 = 0,3 + \frac{10^3 \cdot 0,2 \cdot 10^{-3} \cdot 1,5}{18 \cdot 10^{-3}} \cdot \frac{8,31 \cdot 283}{1,23 \cdot 10^3 \cdot 4 \cdot 5 \cdot 3} \approx 0,83 = 83\% .$$

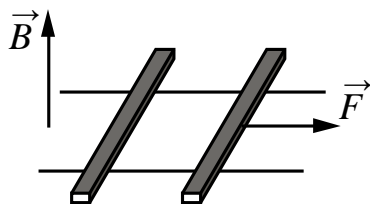
Ответ: $\varphi_2 \approx 83\%$

Критерии оценивания выполнения задания	Баллы
<p>Приведено полное решение, включающее следующие элементы:</p> <p>I) записаны положения теории и физические законы, закономерности, <u>применение которых необходимо</u> для решения задачи выбранным способом (в данном случае: <i>определение относительной влажности для двух состояний воздуха, уравнение Менделеева – Клапейрона, выражение для производительности увлажнителя</i>);</p> <p>II) описаны все вновь вводимые в решении буквенные обозначения физических величин (<i>за исключением обозначений констант, указанных в варианте КИМ, обозначений, используемых в условии задачи, и стандартных обозначений величин, используемых при написании физических законов</i>);</p> <p>III) проведены необходимые математические преобразования и расчёты, приводящие к правильному числовому ответу (допускается решение «по частям» с промежуточными вычислениями);</p> <p>IV) представлен правильный ответ с указанием единиц измерения искомой величины</p>	3
<p>Правильно записаны все необходимые положения теории, физические законы, закономерности, и проведены необходимые преобразования. Но имеются один или несколько из следующих недостатков.</p> <p>Записи, соответствующие пункту II, представлены не в полном объёме или отсутствуют.</p> <p style="text-align: center;">И (ИЛИ)</p> <p>В решении имеются лишние записи, не входящие в решение (возможно, неверные), которые не отделены от решения (не зачёркнуты; не заключены в скобки, рамку и т.п.).</p> <p style="text-align: center;">И (ИЛИ)</p> <p>В необходимых математических преобразованиях или вычислениях допущены ошибки, и (или) в математических преобразованиях/ вычислениях пропущены логически важные шаги.</p> <p style="text-align: center;">И (ИЛИ)</p> <p>Отсутствует пункт IV, или в нём допущена ошибка</p>	2

<p>Представлены записи, соответствующие одному из следующих случаев.</p> <p>Представлены только положения и формулы, выражающие физические законы, применение которых необходимо и достаточно для решения данной задачи, без каких-либо преобразований с их использованием, направленных на решение задачи.</p> <p style="text-align: center;">ИЛИ</p> <p>В решении отсутствует ОДНА из исходных формул, необходимая для решения данной задачи (или утверждение, лежащее в основе решения), но присутствуют логически верные преобразования с имеющимися формулами, направленные на решение задачи.</p> <p style="text-align: center;">ИЛИ</p> <p>В ОДНОЙ из исходных формул, необходимых для решения данной задачи (или в утверждении, лежащем в основе решения), допущена ошибка, но присутствуют логически верные преобразования с имеющимися формулами, направленные на решение задачи</p>	1
Все случаи решения, которые не соответствуют вышеуказанным критериям выставления оценок в 1, 2, 3 балла	0
<i>Максимальный балл</i>	3

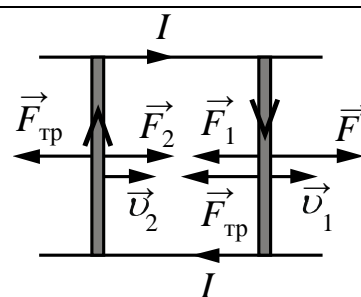
31

По горизонтально расположенным шероховатым рельсам с пренебрежимо малым сопротивлением могут скользить два одинаковых стержня массой $m=100$ г и сопротивлением $R=0,1$ Ом каждый. Расстояние между рельсами $l=10$ см, а коэффициент трения между стержнями и рельсами $\mu=0,1$. Рельсы со стержнями находятся в однородном вертикальном магнитном поле с индукцией $B=1$ Тл (см. рисунок). Под действием горизонтальной силы, действующей на первый стержень вдоль рельс, оба стержня движутся поступательно равномерно с разными скоростями. Какова скорость движения первого стержня относительно второго? Самоиндукцией контура пренебречь.



Возможное решение

При движении стержней с разными скоростями изменение потока вектора магнитной индукции, пронизывающего контур, за промежуток времени Δt определяется по формуле $\Delta\Phi = Bl(v_1 - v_2)\Delta t = Blv_{\text{отн}}\Delta t$, что приводит к возникновению в контуре ЭДС индукции. Согласно закону Фарадея $\mathcal{E} = -\frac{\Delta\Phi}{\Delta t} = -Blv_{\text{отн}}$. Здесь мы пренебрегли самоиндукцией контура.



В соответствии с законом Ома для замкнутой цепи в контуре появился ток

$$I = \frac{|\mathcal{E}|}{2R} = \frac{Blv_{\text{отн}}}{2R}.$$

На проводники с током в магнитном поле действуют силы Ампера F_1 и F_2 , $F_1 = F_2 = IBl$, как показано на рисунке. Кроме этих сил, на каждый стержень действует тормозящая сила трения, $F_{\text{тр}} = \mu mg$.

Так как стержни движутся равномерно, сумма сил, приложенных к каждому стержню, равна нулю. На второй стержень действуют только сила Ампера F_2

и сила трения, поэтому $\frac{(Bl)^2 v_{\text{отн}}}{2R} = \mu mg$. Отсюда: относительная скорость

$$v_{\text{отн}} = \frac{2\mu mgR}{(Bl)^2} = \frac{2 \cdot 0,1 \cdot 0,1 \cdot 10 \cdot 0,1}{(1 \cdot 0,1)^2} = 2 \text{ м/с}.$$

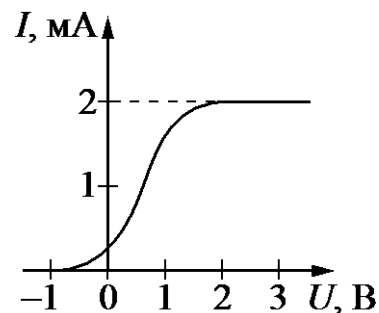
Ответ: $v_{\text{отн}} = 2$ м/с

Критерии оценивания выполнения задания	Баллы
<p>Приведено полное решение, включающее следующие элементы:</p> <p>I) записаны положения теории и физические законы, закономерности, <u>применение которых необходимо</u> для решения задачи выбранным способом (в данном случае: <i>выражение для изменения магнитного потока, закон электромагнитной индукции, закон Ома для полной цепи, выражение для силы Ампера, условие равномерного движения стержней, формула для силы трения</i>);</p> <p>II) описаны все вновь вводимые в решении буквенные обозначения физических величин (за исключением обозначений констант, указанных в варианте КИМ, обозначений, используемых в условии задачи, и стандартных обозначений величин, используемых при написании физических законов);</p> <p>III) проведены необходимые математические преобразования и расчёты, приводящие к правильному числовому ответу (допускается решение «по частям» с промежуточными вычислениями);</p> <p>IV) представлен правильный ответ с указанием единиц измерения искомой величины</p>	3
<p>Правильно записаны все необходимые положения теории, физические законы, закономерности, и проведены необходимые преобразования. Но имеются один или несколько из следующих недостатков.</p> <p>Записи, соответствующие пункту II, представлены не в полном объёме или отсутствуют.</p> <p style="text-align: center;">И (ИЛИ)</p> <p>В решении имеются лишние записи, не входящие в решение (возможно, неверные), которые не отделены от решения (не зачёркнуты; не заключены в скобки, рамку и т.п.).</p> <p style="text-align: center;">И (ИЛИ)</p> <p>В необходимых математических преобразованиях или вычислениях допущены ошибки, и (или) в математических преобразованиях/вычислениях пропущены логически важные шаги.</p> <p style="text-align: center;">И (ИЛИ)</p> <p>Отсутствует пункт IV, или в нём допущена ошибка</p>	2

<p>Представлены записи, соответствующие одному из следующих случаев.</p> <p>Представлены только положения и формулы, выражающие физические законы, применение которых необходимо и достаточно для решения данной задачи, без каких-либо преобразований с их использованием, направленных на решение задачи.</p> <p style="text-align: center;">ИЛИ</p> <p>В решении отсутствует ОДНА из исходных формул, необходимая для решения данной задачи (или утверждение, лежащее в основе решения), но присутствуют логически верные преобразования с имеющимися формулами, направленные на решение задачи.</p> <p style="text-align: center;">ИЛИ</p> <p>В ОДНОЙ из исходных формул, необходимых для решения данной задачи (или в утверждении, лежащем в основе решения), допущена ошибка, но присутствуют логически верные преобразования с имеющимися формулами, направленные на решение задачи</p>	1
<p>Все случаи решения, которые не соответствуют вышеуказанным критериям выставления оценок в 1, 2, 3 балла</p>	0
<p><i>Максимальный балл</i></p>	3

32

В опыте по изучению фотоэффекта свет частотой $\nu = 6,1 \cdot 10^{14}$ Гц падает на поверхность катода, в результате чего в цепи возникает ток. График зависимости силы тока I от напряжения U между анодом и катодом приведён на рисунке. Какова мощность падающего света P , если в среднем один из 20 фотонов, падающих на катод, выбивает электрон?



Возможное решение

1. По определению сила тока $I = \frac{q}{t}$, где q – заряд, прошедший через поперечное сечение проводника за время t .

2. Когда ток в цепи достигает насыщения, все фотоэлектроны, выбитые из катода, достигают анода. Тогда за время t через поперечное сечение проводника проходит заряд $q = N_e et$, где e – модуль заряда электрона, N_e – количество фотоэлектронов, выбитых из катода за 1 с.

Так как $N_e = \frac{1}{20} N_\Phi$ (где N_Φ – количество фотонов, падающих на катод за 1 с), то $I_{\max} = \frac{1}{20} N_\Phi e$.

3. Так как энергия фотона $E_\Phi = h\nu$, то мощность света $P = \frac{W}{t} = N_\Phi h\nu$.

4. Окончательно получим: $P = N_\Phi h\nu = \frac{20 I_{\max} h\nu}{e}$. Согласно приведённому

графику сила тока насыщения $I_{\max} = 2$ мА, тогда

$$P = \frac{20 \cdot 2 \cdot 10^{-3} \cdot 6,6 \cdot 10^{-34} \cdot 6,1 \cdot 10^{14}}{1,6 \cdot 10^{-19}} \approx 0,1 \text{ Вт.}$$

Ответ: $P \approx 0,1$ Вт

Критерии оценивания выполнения задания	Баллы
<p>Приведено полное решение, включающее следующие элементы:</p> <p>I) записаны положения теории и физические законы, закономерности, <u>применение которых необходимо</u> для решения задачи выбранным способом (в данном случае: <i>определение силы тока; связь силы тока насыщения с количеством фотонов, падающих на катод в единицу времени; выражения для энергии фотона и мощности излучения</i>);</p> <p>II) описаны все вновь вводимые в решении буквенные обозначения физических величин (за исключением обозначений констант, указанных в варианте КИМ, обозначений, используемых в условии задачи, и стандартных обозначений величин, используемых при написании физических законов);</p> <p>III) проведены необходимые математические преобразования и расчёты, приводящие к правильному числовому ответу (допускается решение «по частям» с промежуточными вычислениями);</p> <p>IV) представлен правильный ответ с указанием единиц измерения искомой величины</p>	3
<p>Правильно записаны все необходимые положения теории, физические законы, закономерности, и проведены необходимые преобразования. Но имеются один или несколько из следующих недостатков.</p> <p>Записи, соответствующие пункту II, представлены не в полном объёме или отсутствуют.</p> <p style="text-align: center;">И (ИЛИ)</p> <p>В решении имеются лишние записи, не входящие в решение (возможно, неверные), которые не отделены от решения (не зачёркнуты; не заключены в скобки, рамку и т.п.).</p> <p style="text-align: center;">И (ИЛИ)</p> <p>В необходимых математических преобразованиях или вычислениях допущены ошибки, и (или) в математических преобразованиях/вычислениях пропущены логически важные шаги.</p> <p style="text-align: center;">И (ИЛИ)</p> <p>Отсутствует пункт IV, или в нём допущена ошибка</p>	2

<p>Представлены записи, соответствующие одному из следующих случаев.</p> <p>Представлены только положения и формулы, выражающие физические законы, применение которых необходимо и достаточно для решения данной задачи, без каких-либо преобразований с их использованием, направленных на решение задачи.</p> <p style="text-align: center;">ИЛИ</p> <p>В решении отсутствует ОДНА из исходных формул, необходимая для решения данной задачи (или утверждение, лежащее в основе решения), но присутствуют логически верные преобразования с имеющимися формулами, направленные на решение задачи.</p> <p style="text-align: center;">ИЛИ</p> <p>В ОДНОЙ из исходных формул, необходимых для решения данной задачи (или в утверждении, лежащем в основе решения), допущена ошибка, но присутствуют логически верные преобразования с имеющимися формулами, направленные на решение задачи</p>	1
<p>Все случаи решения, которые не соответствуют вышеуказанным критериям выставления оценок в 1, 2, 3 балла</p>	0
<p><i>Максимальный балл</i></p>	3